

# TIME, LENGTH AND CAPACITY CHALLENGE CARDS

الزمن، الطول، والسعة - بطاقات تحدي

## Easy Answers

إجابات السهل

NO. 1 12pm  
١٢ مساءً

NO. 2 5.30pm  
٥:٣٠ مساءً

NO. 3 1 hour 30 mins  
ساعة و ٣٠ دقيقة

NO. 4 a) 1 hour  
b) 1 hour 30 mins  
(أ) ساعة واحدة  
(ب) ساعة و ٣٠ دقيقة

NO. 5 3m  
٣م

NO. 6 25cm  
٢٥سم

NO. 7 Alex  
الليكس

NO. 8 4m  
٤م

NO. 9 8 litres  
٨ لتر

NO. 10 6  
٦

NO. 11 5  
٥

NO. 12 10  
١٠

# TIME, LENGTH AND CAPACITY CHALLENGE CARDS

الزمن، الطول، والسعة - بطاقات تحدي

## Hard Answers

إجابات الصعب

NO. 13 12.15pm  
١٢:١٥ مساءً

NO. 14 5.15pm  
٥:١٥ مساءً

NO. 15 15 mins  
١٥ دقيقة

NO. 16 a) 45 mins  
b) 1 hour 15mins  
(أ) ٤٥ دقيقة  
ساعة و ١٥ دقيقة

NO. 17 2.5m  
٢,٥م

NO. 18 27cm  
٢٧سم

NO. 19 a) Alex  
b) 10cm  
(أ) أليكس  
(ب) ١٠سم

NO. 20 3  
٣

NO. 21 5 litres  
٥ لتر

NO. 22 a) Yes  
b) 200ml  
(أ) نعم  
(ب) ٢٠٠مل


NO. 23 4  
٤

NO. 24 10  
١٠

## NO. 1 TIME, LENGTH AND CAPACITY CHALLENGE CARDS

الزمن، الطول، والسعة - بطاقات تحدي

James got on the train at 11am. The journey took 1 hour. What time did he get off the train?  
صعد جيمس القطار في الساعة ١١ صباحاً. استغرقت الرحلة ساعة واحدة. متى نزل من القطار؟



## NO. 3 TIME, LENGTH AND CAPACITY CHALLENGE CARDS

الزمن، الطول، والسعة - بطاقات تحدي

Betty met her friends at the cafe at 11am. She left at 12.30. How long was she there for?  
قابلت (بتي) أصدقائها في المطعم الساعة ١١ صباحاً، وغادرت في الساعة ١٢:٣٠. كم الزمن الذي مكثته هناك؟



## NO. 2 TIME, LENGTH AND CAPACITY CHALLENGE CARDS

الزمن، الطول، والسعة - بطاقات تحدي

Darcy walks to her dance class. It takes 30 minutes and she needs to arrive at 6pm. What time should she leave at?  
تذهب دارسي إلى درس الرقص سيراً على الأقدام. تستغرق المسافة للوصول لمدة ٣٠ دقيقة وهي تحتاج أن تصل في الساعة ٦ مساءً. ما الوقت الذي يجب أن تغادر فيه إلى الدرس؟



Regent Studies | [www.regentstudies.com](http://www.regentstudies.com)

## NO. 4 TIME, LENGTH AND CAPACITY CHALLENGE CARDS

الزمن، الطول، والسعة - بطاقات تحدي

Georgia starts the race at 1pm. She finishes at 2pm. How long did she take to finish? The last person crosses the finish line at 2.30pm. How long did they take?


بدأت جورجيا السباق في الساعة ١ مساءً. انتهت في الساعة ٢ مساءً. كم الزمن الذي استغرقته؟ عبر آخر شخص خط النهاية في الساعة ٢:٣٠ مساءً. كم الزمن الذي استغرقه في السباق؟



NO. 5 TIME, LENGTH AND CAPACITY CHALLENGE CARDS  
الزمن، الطول، والسعة - بطاقات تحدي

John has a stick that measures 1m. Dave has a stick that measures 2m. If they joined them together, how long would they be?

لدى جون عصا طوله ١ متر، ولدى ديف عصا طوله ٢ متر. إذا تم توصيلهما مع بعض، كم سيكون طولهما؟



NO. 7 TIME, LENGTH AND CAPACITY CHALLENGE CARDS  
الزمن، الطول، والسعة - بطاقات تحدي

Mark is 86cm tall and Alex is 96cm tall. Who is taller?

طول مارك ٨٦ سم وطول أليكس ٩٦ سم. من هو الأطول؟



NO. 6 TIME, LENGTH AND CAPACITY CHALLENGE CARDS  
الزمن، الطول، والسعة - بطاقات تحدي

One lollipop stick is 10cm long and the other is 15cm. How long would they be if they were joined together?

طول قطعة الحلوى واحدة ١٠ سم وطول الأخرى ١٥ سم. كم سيبلغ طولهما إذا تم توصيلهما مع بعض؟



NO. 8 TIME, LENGTH AND CAPACITY CHALLENGE CARDS  
الزمن، الطول، والسعة - بطاقات تحدي

One car measures 2 metres long. How long does my drive need to be to fit 2 cars on?

طول سيارة واحدة يساوي مترين. كم طول المساحة التي أحتاجها بجانب البيت لإيقاف سيارتين؟





NO. 9

## TIME, LENGTH AND CAPACITY CHALLENGE CARDS

الزمن، الطول، والسعة - بطاقات تحدي

Laura's watering can holds 4 litres. How many litres would there be if she has 2 watering cans?

لدى لورا رشاش ماء (مرشيتين) يتسع لـ ٤ لترات. كما لترّاً في رشاشين (مرشيتين)؟



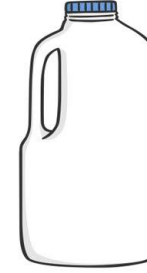
NO. 11

## TIME, LENGTH AND CAPACITY CHALLENGE CARDS

الزمن، الطول، والسعة - بطاقات تحدي

The bottle holds 2 litres of milk. If I needed 10 litres of milk, how many bottles would I need?

تتسع القارورة لترين من الحليب. إذا أحتجت ١٠ لترات من الحليب، كم علبة أحتاجها؟



NO. 10

## TIME, LENGTH AND CAPACITY CHALLENGE CARDS

الزمن، الطول، والسعة - بطاقات تحدي

Morgan's jug holds 600ml. The glasses hold 100ml each. How many glasses could she fill with a full jug?

يتسع إبريق مرجان لـ ٦٠٠ مل. ويستوعب كل كوب من الأكواب لـ ١٠٠ مل. كم كوباً بإمكانه تعبئته من الإبريق الممتلئ؟

Regent Studies | [www.regentstudies.com](http://www.regentstudies.com)


NO. 12

## TIME, LENGTH AND CAPACITY CHALLENGE CARDS

الزمن، الطول، والسعة - بطاقات تحدي

The water tray needs 50 litres to fill it up. The bucket holds 5 litres. How many buckets of water will they need?

يحتاج حوض الماء لـ ٥٠ لترّاً ليمتلئ. يتسع الدلو لـ ٥ لترات. كم دلوّاً من الماء يحتاج؟



## NO. 13 TIME, LENGTH AND CAPACITY CHALLENGE CARDS

الزمن، الطول، والسعة - بطاقات تحدي

James got on the train at 11.30am. The journey took 45mins. What time did he get off the train?

صعد جيمس القطار في الساعة ١١:٣٠ صباحاً. استغرقت الرحلة ٤٥ دقيقة. متى نزل من القطار؟



## NO. 15 TIME, LENGTH AND CAPACITY CHALLENGE CARDS

الزمن، الطول، والسعة - بطاقات تحدي

Betty met her friends at the cafe at 11am. She left at 11.15am. How long was she there for?

قابلت (بتي) أصدقائها في المطعم الساعة ١١ صباحاً، وغادرت في الساعة ١١:١٥ صباحاً. كم الزمن الذي مكثته هناك؟



## NO. 14 TIME, LENGTH AND CAPACITY CHALLENGE CARDS

الزمن، الطول، والسعة - بطاقات تحدي

Darcy walks to her dance class. It takes 15 minutes and she needs to arrive at 6pm. What time should she leave at?

تذهب دارسي إلى درس الرقص سيراً على الأقدام. تستغرق المسافة للوصول مدة ١٥ دقيقة وهي تحتاج أن تصل في الساعة ٦ مساءً. ما الوقت الذي يجب أن تغادر فيه إلى الدرس؟



## NO. 16 TIME, LENGTH AND CAPACITY CHALLENGE CARDS

الزمن، الطول، والسعة - بطاقات تحدي

Georgia starts the race at 1pm. She finishes at 1.45pm. How long did she take to finish? The last person crosses the finish line at 2.15pm. How long did they take?

بدأت جورجيا السباق في الساعة ١ مساءً. انتهت في الساعة ١:٤٥ مساءً. كم الزمن الذي استغرقتة؟ عبر آخر شخص خط النهاية في الساعة ٢:١٥ مساءً. كم الزمن الذي استغرقه في السباق؟




## NO.17 TIME, LENGTH AND CAPACITY CHALLENGE CARDS

الزمن، الطول، والسعة - بطاقات تحدي

John has a stick that measures 1m. Dave has a stick that measures 1.5m. If they joined them together, how long would they be?

لدى جون عصا طوله ١ متر، ولدى ديف عصا طوله ١,٥ متر. إذا تم توصيلهما مع بعض، كم سيكون طولهما؟



## NO.19 TIME, LENGTH AND CAPACITY CHALLENGE CARDS

الزمن، الطول، والسعة - بطاقات تحدي

Mark is 86cm tall and Alex is 96cm tall. Who is taller and by how much?

طول مارك ٨٦ سم وطول أليكس ٩٦ سم. من هو الأطول وكم الزيادة في الطول؟



## NO.18 TIME, LENGTH AND CAPACITY CHALLENGE CARDS

الزمن، الطول، والسعة - بطاقات تحدي

One lollipop stick is 12cm long and the other is 15cm. How long would they be if they were joined together?

طول قطعة الحلوى واحدة ١٢ سم وطول الأخرى ١٥ سم. كم سيبلغ طولهما إذا تم توصيلهما مع بعض؟



## NO.20 TIME, LENGTH AND CAPACITY CHALLENGE CARDS

الزمن، الطول، والسعة - بطاقات تحدي

One car measures 2 metres long. If my drive is 6m long, how many cars will fit on it?

طول سيارة واحدة يساوي مترين. إذا كان طول الموقف ٦ أمتار، لكم سيارة سيتسع؟





NO. 21 TIME, LENGTH AND CAPACITY CHALLENGE CARDS  
الزمن، الطول، والسعة - بطاقات تحدي

Laura's watering can holds 2.5 litres. How many litres would there be if she has 2 watering cans?

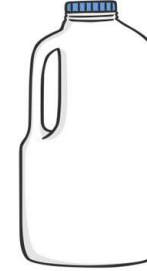
لدى لورا رشاش ماء (مرشيتين) يتسع لـ ٢,٥ لتر. كما لتراً في رشاشين (مرشيتين)؟



NO. 23 TIME, LENGTH AND CAPACITY CHALLENGE CARDS  
الزمن، الطول، والسعة - بطاقات تحدي

The bottle holds 2.5 litres of milk. If I needed 10 litres of milk, how many bottles would I need?

تتسع القارورة ٢,٥ لتر من الحليب. إذا أحتجت ١٠ لتراً من الحليب، كم علبه أحتاجها؟



NO. 22 TIME, LENGTH AND CAPACITY CHALLENGE CARDS  
الزمن، الطول، والسعة - بطاقات تحدي

Morgan's jug holds 600ml. The glasses hold 100ml each. How many glasses could she fill with a full jug? Is there any left? How much?

يتسع إبريق مرجان لـ ٦٠٠ مل. ويستوع كل كوب من الأكواب لـ ١٠٠ مل. كم كوباً بإمكانه تعبئته من الإبريق الممتلئ؟ هل سيكون هناك باقى؟ كم؟



NO. 24 TIME, LENGTH AND CAPACITY CHALLENGE CARDS  
الزمن، الطول، والسعة - بطاقات تحدي

The water tray needs 50 litres to fill it up. The bucket holds 5 litres. How many buckets of water will they need?

يحتاج حوض الماء لـ ٥٠ لتراً ليمتلئ. يتسع الدلو لـ ٥ لتراً. كم دلواً من الماء يحتاج؟

